

Semaine 3 Maths et Société semaine 3.

77

**Culture
Scientifique**

 académie
créteil

 Direction Départementale
des Services de l'Éducation
Nationale
de Seine et Marne

Les maths de ma cuisine !

Défis cycle 1

Histoire d'œufs (niveau 1)

Combien faut-il ajouter d'œufs pour remplir la boîte?



2



3



4

Histoire d'œufs (niveau 2)

Papa a fait un bon gâteau. Sa boîte à œufs était pleine.




Voici les œufs qu'il a utilisés.



2



3



4

Dans la boîte, il reste..... œufs

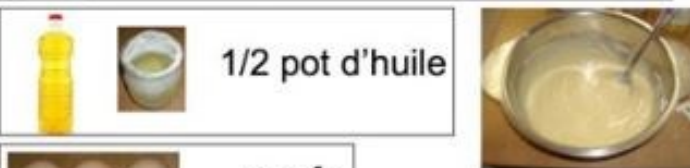
Défis cycle 1

Histoire d'œufs (niveau 3)

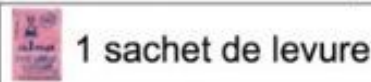
Voici la recette pour préparer un gâteau au yaourt.
Pour la fête de l'école, les élèves doivent faire 3 gâteaux au yaourt.

Gâteau au yaourt

Dans un saladier, verser:



Bien mélanger et verser dans un moule beurré



Ont-ils assez d'œufs ?



Défis cycle 2



Quels nombres ne dépassant pas cent puis-je trouver avec les chiffres de ces bougies d'anniversaire ?
Recherche-les tous !



Dans chaque compartiment, il y a 8 sachets de tisanes.
Combien y en a-t-il en tout dans cette boîte ?

Défi cycle 3



Chacune des cases vides contenait 3 biscuits

Sur cette photo, il y a des rangées comportant 3 biscuits dans chaque case.

- Combien y-avait-il de biscuits en tout dans une boîte neuve?
- Combien de biscuits ont déjà été mangés au moment où on a pris la photo ?
- A quelle fraction correspond la partie de biscuits mangés par rapport à la boîte entière ?