

## CONNAITRE LES COMPLEMENTS A L'HEURE

### NIVEAU A

CARTES QUESTIONS : Combien faut-il ajouter de minutes à x minutes pour arriver à 1 heure ?

15 minutes ↓ 1 heure	10 minutes ↓ 1 heure	20 minutes ↓ 1 heure
30 minutes ↓ 1 heure	40 minutes ↓ 1 heure	5 minutes ↓ 1 heure
50 minutes ↓ 1 heure	25 minutes ↓ 1 heure	35 minutes ↓ 1 heure
45 minutes ↓ 1 heure	55 minutes ↓ 1 heure	

CARTES REPONSES : Elles peuvent être collées au dos des cartes questions.

Ce jeu peut également être utilisé comme un memory ou un loto.

5 minutes	10 minutes	15 minutes
20 minutes	25 minutes	30 minutes
35 minutes	40 minutes	45 minutes
50 minutes	55 minutes	

## CONNAITRE LES COMPLEMENTS A L'HEURE

NIVEAU B

CARTES QUESTIONS : Combien faut-il ajouter de minutes à x minutes pour arriver à 1 heure ?

19 minutes ↓ 1 heure	12 minutes ↓ 1 heure	23 minutes ↓ 1 heure
34 minutes ↓ 1 heure	49 minutes ↓ 1 heure	8 minutes ↓ 1 heure
56 minutes ↓ 1 heure	29 minutes ↓ 1 heure	36 minutes ↓ 1 heure
48 minutes ↓ 1 heure	51 minutes ↓ 1 heure	22 minutes ↓ 1 heure

CARTES REPONSES : Elles peuvent être collées au dos des cartes questions.

Ce jeu peut également être utilisé comme un memory ou un loto.

41 minutes	48 minutes	37 minutes
26 minutes	11 minutes	52 minutes
4 minutes	31 minutes	24 minutes
12 minutes	9 minutes	38 minutes

## CONNAITRE LES COMPLEMENTS A LA JOURNEE

NIVEAU A

CARTES QUESTIONS : Combien faut-il ajouter d'heures à x heures pour arriver à 1 journée ?

3 heures ↓ 1 journée	5 heures ↓ 1 journée	7 heures ↓ 1 journée
10 heures ↓ 1 journée	12 heures ↓ 1 journée	14 heures ↓ 1 journée
16 heures ↓ 1 journée	18 heures ↓ 1 journée	20 heures ↓ 1 journée
1 heure ↓ 1 journée	19 heures ↓ 1 journée	22 heures ↓ 1 journée

CARTES REPONSES : Elles peuvent être collées au dos des cartes questions.

Ce jeu peut également être utilisé comme un memory ou un loto.

21 heures	19 heures	17 heures
14 heures	12 heures	10 heures
8 heures	6 heures	4 heures
23 heures	5 heures	2 heures

## CONNAITRE LES COMPLEMENTS A LA JOURNEE

### NIVEAU B

CARTES QUESTIONS : Combien faut-il ajouter d'heures et minutes à x heures et minutes pour arriver à 1 journée ?

3 heures, 10 minutes ↓ 1 journée	5 heures, 30 minutes ↓ 1 journée	7 heures, 20 minutes ↓ 1 journée
10 heures, 10 minutes ↓ 1 journée	12 heures, 5 minutes ↓ 1 journée	14 heures, 35 minutes ↓ 1 journée
16 heures, 45 minutes ↓ 1 journée	18 heures, 15 minutes ↓ 1 journée	20 heures, 40 minutes ↓ 1 journée
1 heure, 55 minutes ↓ 1 journée	19 heures, 20 minutes ↓ 1 journée	22 heures, 50 minutes ↓ 1 journée

CARTES REPONSES : Elles peuvent être collées au dos des cartes questions.

Ce jeu peut également être utilisé comme un memory ou un loto.

20 heures, 50 minutes	18 heures, 30 minutes	16 heures, 40 minutes
13 heures, 50 minutes	11 heures, 55 minutes	9 heures, 25 minutes
7 heures, 15 minutes	5 heures, 45 minutes	3 heures, 20 minutes
22 heures, 5 minutes	4 heures, 40 minutes	1 heure, 10 minutes



## **JEU DU CALENDRIER**

### **Matériel pour 4 joueurs dont 1 meneur de jeu :**

1 calendrier, des jetons, 1 pioche avec 15 cartes recto-verso (questions-réponses)

**Règle du jeu** : Le meneur de jeu tire une carte, lit la question et interroge les joueurs à tour de rôle. Si le joueur donne la bonne réponse, il remporte 1 jeton, s'il n'a pas la bonne réponse, il passe la main au suivant qui peut alors remporter 1 jeton « sur le tour » du joueur précédent. Le jeu s'arrête quand toutes les cartes ont été piochées (ou au bout d'un temps défini)

**Variante** : La question est posée à l'ensemble des joueurs, le premier qui a trouvé, lève la main et est interrogé. S'il a la bonne réponse, il remporte 1 jeton.

MARS						
Lundi	Mardi	Mercredi	Jeudi	Vendredi	Samedi	Dimanche
				1	2	3
4	5	6	7	8	9	10
11	12	13	14	15	16	17
18	19	20	21	22	23	24
25	26	27	28	29	30	31

Les cartes ainsi que le calendrier peuvent être imprimés sur du papier de couleur, ainsi plusieurs mois peuvent être utilisés simultanément. Exemple : les cartes et le mois de mars en rouge, les cartes et le mois d'avril en bleu.

Quel jour tombe le 9 mars ?	Quelles sont les dates des samedis du mois de mars ?	Quel jour tombe le dernier jeudi du mois ?
Combien y a-t-il de semaines complètes au mois de mars ?	Combien y a-t-il de jours au mois de mars ?	Combien y a-t-il de lundis au mois de mars ?
Quel jour tombe le 21 mars ?	Combien y a-t-il de dimanches au mois de mars ?	Combien de jours séparent le vendredi 8 et le mardi 12 mars ?
Quelles sont les dates des lundis du mois ?	Quel jour tombe le 1 <sup>er</sup> mardi du mois ?	Combien y a-t-il de mercredis au mois de mars ?
Quelle est la date du dernier samedi du mois ?	Quel jour tombe le 1 <sup>er</sup> jour du mois ?	Combien de jours séparent le mardi 16 et le dimanche 24 mars ?

## CARTES REPONSES

Samedi	2 – 9 – 16 – 23 – 30	Le 28
4 semaines	31 jours	4 lundis
Jeudi	5 dimanches	4 jours
4 – 11 – 18 – 25	Le 5	4 mercredis
Le 30	vendredi	8 jours

## MEMORY DES HEURES











Imprimer les cartes « pendules » sur du papier rouge et les cartes « heures » sur du papier jaune.

**But du jeu** : Associer la pendule avec la bonne heure.

**Règle du jeu** : Toutes les cartes sont posées sur la table, à l'envers. Chaque joueur, à tour de rôle, retourne une carte jaune et une carte rouge, si c'est la bonne paire, il les prend et peut rejouer, sinon, il les replace à l'envers et c'est au joueur suivant.











Le gagnant est celui qui obtient le plus de paires.

### NIVEAU A, CP











2 heures	midi	4 heures et demie
5 heures et demie	7 heures	7 heures et demie
8 heures	9 heures	11 heures et demie
10 heures et demie		

## NIVEAU B, CE1

14h15	16h45	17h30
18h15	6h45	7h30
9h00	10h45	13h45
4h15		

## NIVEAU C, CE2



9h05	14h10	18h20
17h50	10h02	18h35
17h37	8h45	7h13
2h50		