




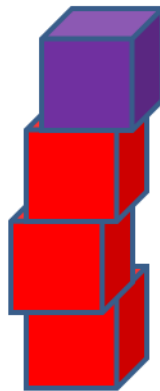
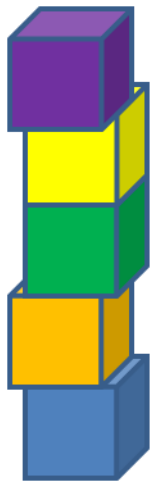
## Activité 1

### *La tour la plus haute*

Jeu avec des cubes :

Chaque joueur lance un dé (à 3 ou 6 points) et prend autant de cubes que de points sur le dé. Il empile ses cubes.

Après 3 lancers de dés, celui qui a la tour la plus haute a gagné.



## Activité 2

Ranger des élèves (ou des poupées, ou des peluches) par taille deux à deux.




Saut en hauteur

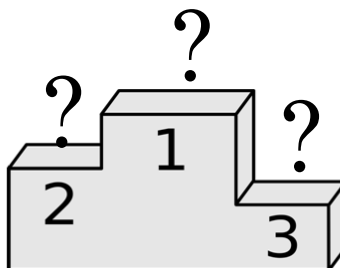
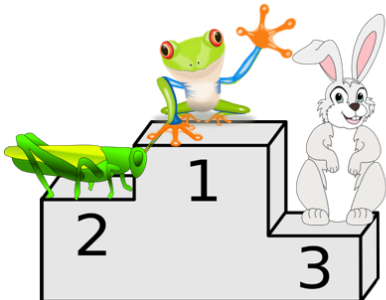
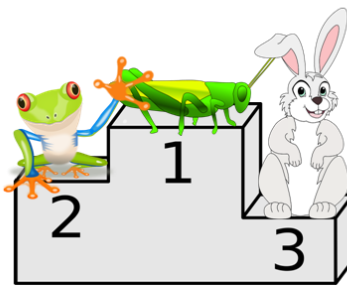
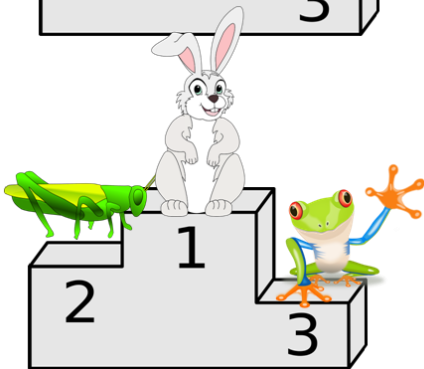
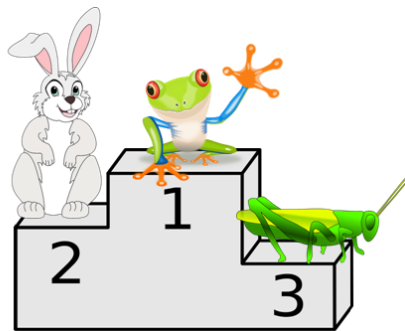
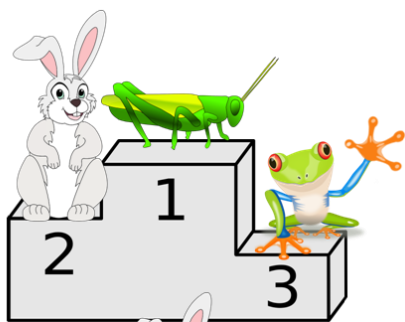
Activité 1

Mimi est parvenue à franchir cette hauteur à son dernier saut.

La longueur totale de la ligne verte est de 6 mètres. Les deux poteaux sont espacés de 2 mètres.



Quelle hauteur a été franchie par Mimi ?



Activité 2

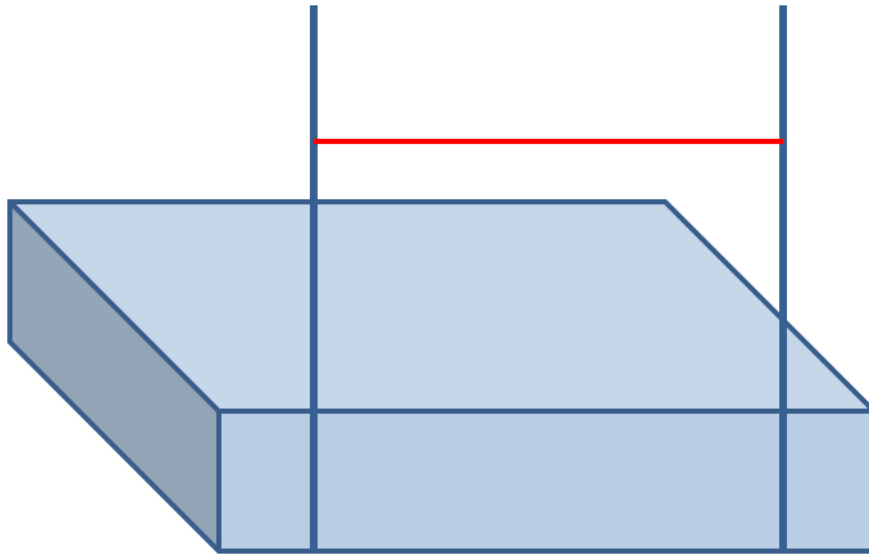
Le lapin, la sauterelle et la grenouille participent à un concours de saut en hauteur.

Retrouve leur podium, sachant que ce n'est aucun de ceux représentés.



## Activité 1

Combien de quadrilatères peux-tu trouver dans cette représentation d'un sautoir de saut en hauteur ?



## Activité 2

Sachant que la sauterelle saute 30 fois sa hauteur, quelle hauteur sauterai-tu si tu avais les mêmes capacités ?

