




## Activité 1

Colorie les tee-shirt de la bonne couleur

L'enfant qui a gagné la course a un tee-shirt rouge.  
L'enfant qui a un tee-shirt bleu est arrivé après celui  
qui a un tee-shirt vert.



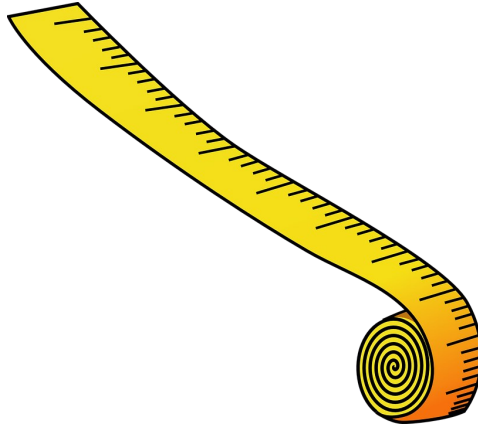
## Activité 2

Participe à une course sur les pistes en annexe, en utilisant un dé de 1 à 3 ou de 1 à 6.




## Activité 1

Le 100 m est l'épreuve reine en athlétisme. Pour te rendre compte de ce que représente cette distance, essaie de mesurer 100 m dans la cour de ton école !



## Activité 2

Le record du monde du 100 m est d'un peu moins de 10 secondes. **Mais que représente une durée de 10 secondes ?** Pour t'aider, tu peux par exemple essayer de marcher en faisant un pas par seconde !

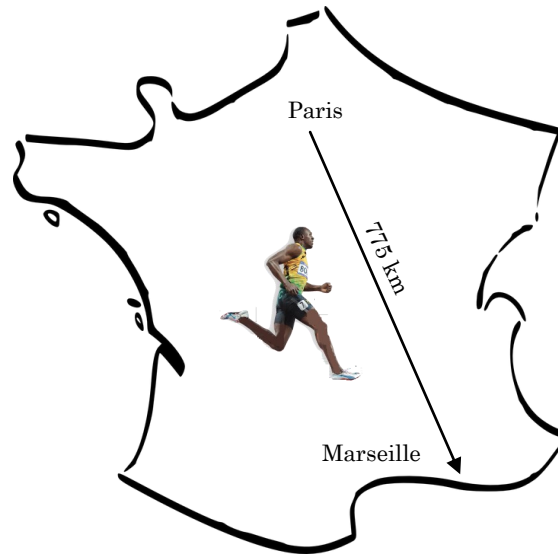




100 mètres

## Activité 1

Le record du monde masculin du 100 m est de 9 secondes et 58 centièmes et est détenu par Usain Bolt. Si tu courais aussi vite que lui, combien de temps mettrais-tu pour aller de Paris à Marseille par la route (775 km) en courant ?



## Activité 2

Denis, Joachim, Hervé et Charles ont terminé l'épreuve de 100 m.

Denis félicite le 2<sup>ème</sup> et Hervé. Denis et Hervé consolent le 3<sup>ème</sup>. Le 3<sup>ème</sup> et le 4<sup>ème</sup> prennent en photo Joachim et Hervé. Qui a gagné la course ?

