

CYCLE 2 : les réponses

Direction des Services Départementaux de l'Éducation Nationale de Seine et Marne

Sudoku

1	2	4	3
4	3	1	2
2	1	3	4
3	4	2	1

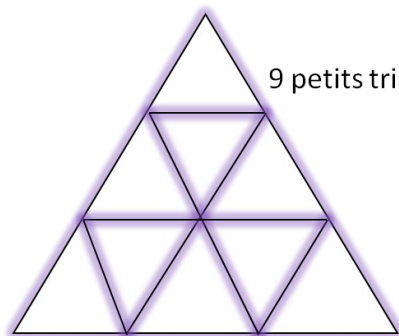
1, 2, 3

Cherche tous les nombres à deux chiffres que tu peux écrire avec les chiffres 1, 2 et 3.

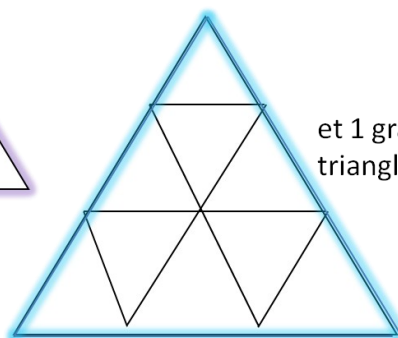
11 12 13
21 22 23
31 32 33

Les triangles

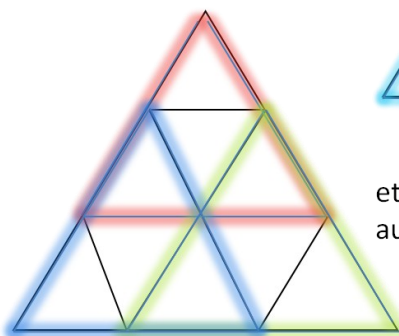
13 triangles.



9 petits triangles



et 1 grand triangle



et encore 3 autres triangles.

L'étagère

Quatre jeux (un robot, un camion, un puzzle, une marionnette) sont rangés sur des étagères.

Le camion est tout en dessous.
Le puzzle n'est pas au-dessus du robot.
La marionnette est tout en haut.
Place les jeux au bon endroit.



Les 2 nombres

Je pense à deux nombres qui se suivent.

Je les additionne, je trouve 25.

Quels sont ces deux nombres ?

Le carré magique

Complète le carré magique avec :

2 2 2 3 3 3 4 4 4

