


Les costumes du clown


Tous les costumes possibles avec un chapeau rouge. →



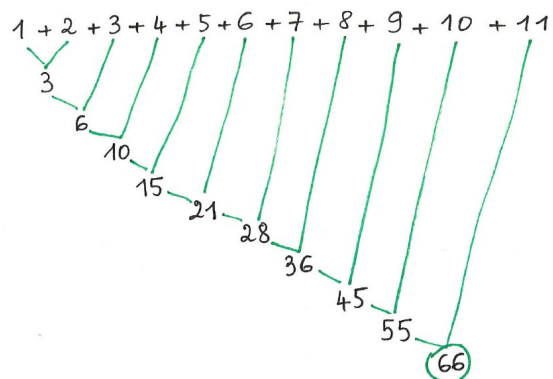
On peut en faire autant avec un chapeau jaune, et encore autant avec un chapeau bleu.

Le seau

16 verres



L'âge de Dorian



Dorian a fêté ses 11 ans.

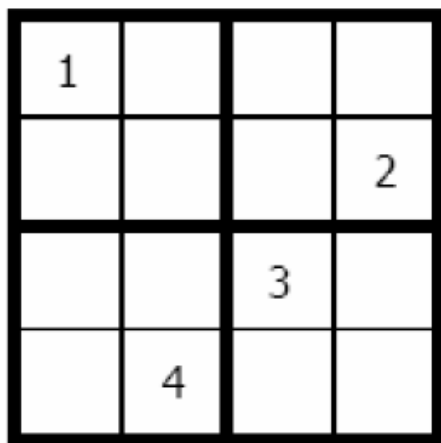
CYCLE 2

Direction des Services Départementaux de l'Éducation Nationale de Seine et Marne

Sudoku


On n'utilise que les chiffres 1, 2, 3 et 4.
Chaque chiffre ne sera présent qu'une fois par ligne et par colonne.

On place les chiffres 1, 2, 3 et 4 dans chaque case en gras comme celle-ci :



1, 2, 3

Cherche tous les nombres à deux chiffres que tu peux écrire avec les chiffres 1, 2 et 3.



Les triangles

Combien y a-t-il de triangles dans ce dessin ?

